

9 КЛАСС

МКР 92

Инструкция по выполнению задания

Время выполнения работы – 5 академических часов.

Максимальное количество баллов за выполненные задания – 175 баллов.

123,7


Задание № 1 (10 баллов)

В этом задании собраны литературные произведения наиболее известных авторов, систематизируйте предложенный материал, выстроив его в хронологической последовательности, от более раннего произведения, до более позднего.

«Человек в футляре» (А. П. Чехов), «Слово о полку Игореве», «Недоросль» (Д. И. Фонвизин), «Собачье сердце» (М. А. Булгаков), «Евгений Онегин» (А. С. Пушкин).

Задание № 2 (24 баллов)

На изображении представлен русский композитор, педагог, дирижёр и музыкальный критик, яркий представитель музыкального романтизма и один из выдающихся лириков и драматургов-психологов в музыке. Родился 7 мая 1840 года в дворянской семье в Воткинске Вятской губернии. Был музыкально одарённым, он получил образование, необходимое для карьеры государственного служащего, поскольку в то время в России было мало возможностей для музыкальной карьеры и не существовало системы государственного музыкального образования. Когда появилась возможность получить такое образование, он поступил в зарождающуюся Санкт-Петербургскую консерваторию, которую окончил в 1865 году. Демонстрировал широкий стилистический и эмоциональный диапазон, от лёгких салонных произведений до грандиозных симфоний.



1. Назовите этого композитора?
2. Назовите годы его жизни?
3. Какие произведения этого автора Вы знаете?

1	Чайковский	(28)
2	1840-1882	(28)
3		(08)

Задание № 3 (23 баллов)

1. Дан ряд имен. Их нужно разбить на 2 группы.
2. Дайте название каждой группе.

1 2 3 4 5 6 7  
25 65 95 306 306 156 125 / 104

123,7

**Муниципальный этап всероссийской олимпиады школьников по искусству  
(мировой художественной культуре)**

**Ханты-Мансийский автономный округ – Югра, 2024-2025 учебный год**

**Олимпиадные задания, 9 класс 1Б**

Грачи прилетели, Девятый вал, Времена года, Возвращение блудного сына, Танец маленьких лебедей, Боярыня Морозова, Лунная соната, Утро в сосновом лесу, Турецкий марш, Девочка с персиками, Полет шмеля, Охотники на привале, Свадебный марш. 9Б.

Заполните Таблицу.

Номер группы	Состав группы	Название группы
1		Художественные произведения
2		Музыкальные композиции

**Задание № 4 (30 баллов)**

1. Определите художественное произведение.



2. Заполните таблицу.

Вопросы	Ответы
Название	Тайная вечеря (5Б)
Автор	(10Б)
Описание	Иисус в центре, окруженный апостолами, симметрично сложены лица, расставлены руки в стороны, тем самым (5Б)
Место хранения	Эрмитаж

**Задание 5 (30 баллов)**

1. Соотнесите понятия с их определениями.

Понятия	Определение
1. Нота	e +
2. Звук	g +
3. Тембр	a +
4. Лад	b +
5. Песня	d +
6. Аккорд	z +

А. Характер звучания, свойственный данному голосу или инструменту. 3

Б. Самый распространенный музыкальный жанр, объединяющий музыку и поэтический текст. 5

В. Организация музыкальных звуков вокруг опорного звука, который называется тоникой. 4

Г. Созвучие, состоящее из трех или более звуков.

Д. Результат колебаний упругого тела (например, струны, столба воздуха). Делятся на музыкальные и шумовые. 6

Е. Знак, при помощи которого записывается высота и длительность звука. 4

**Задание № 6 (20 баллов)**

1. Определите скульптурное произведение.

-10Б,  
20Б  
10Б  
30Б

Задание № 6 (20 баллов)

1. Определите скульптурное произведение.



2. Заполните таблицу.


Вопросы	Ответы
Название	Медный всадник (58)
Автор	О.С.
Описание	Петр I, оседлав своего верного скакуна, поднявшись <del>на</del> на каменный выступ, протянул руку вперед, свысока осматривая будущий Санкт-Петербург. Конь поднялся на дыбы. Статуя изображает Петра, только приехавшего отстраивать «окно в Европу», подчеркивая героичность Императора первого Императора. (58)
Место размещения	Санкт-Петербург (58)

Задание № 7 (18 баллов)


1. Проанализируйте два здания.

58  
58  
150

*Муниципальный этап всероссийской олимпиады школьников по искусству  
(мировой художественной культуре)  
Ханты-Мансийский автономный округ – Югра, 2024-2025 учебный год  
Олимпиадные задания, 9 класс*



1



2

**Муниципальный этап всероссийской олимпиады школьников по искусству  
(мировой художественной культуре)  
Ханты-Мансийский автономный округ – Югра, 2024-2025 учебный год  
Олимпиадные задания, 9 класс**

Вопросы	Ответы
В каком стиле выполнены строения?	Модернизм, протективизм.
В какой период времени зародились данные стили?	В конце XX, начале XXI вв. В середине
Отличительные особенности предложенных стилей?	Простота форм, четкие <sup>архитектурные</sup> угловые линии Линейность, многообразие деталей, наглядность.
Какие еще объекты в этих стилях Вы знаете?	

25.  
25.  
- 25  
125

## Задача 4. Описание.



демонстрируя свою открытость, готовность служить Господу и  
 людям <sup>и</sup> как же благо. Также светость, <sup>светимость</sup> и отличность от  
 обычного общества хорошо передает одежда, делая  
 Христа - таврою и акцентной точкой картины. Апостолы  
 при этом переловариваются между собой, искося  
 медя на сына Божьего, с недоверием, возможным  
 измерением противные к нему руки. При этом  
 какая-то группа верующих наоборот, обернувшись к  
 Циссу, в ~~какой-то~~ ~~мере~~ и попытке привнести его  
 внимание, получить из этого собственную, вредим  
 благою выгоду.

