

10 КЛАСС

МХК 106

Инструкция по выполнению задания

Количество туров – один тур.


Время выполнения работы – 5 академических часов.

Максимальное количество баллов за выполненные задания – 166 баллов.

При выполнении пятого задания необходимо обеспечить доступ к прослушиванию музыкальных фрагментов.

Задание № 1 (15 баллов)

На картине изображён финальный эпизод притчи, «и когда он был ещё далеко, увидел его отец его и сжалился; и, побежав, пал ему на шею и целовал его», а его старший праведный брат, оставшийся с отцом, «осердился и не хотел войти».



106.

1. Как называется данная картина? «Возвращение блудного сына» 5
2. Назовите имя художника? Рембрандт 5
3. Проанализируйте работу автора (материалы, размер, годы создания, сюжет, композицию, цветовое решение, плановость и т.д.)? 0

Задание № 2 (15 баллов)

1. Проанализируйте два памятника архитектуры по представленным изображениям, заполните таблицу.

1	2	3	4	5	6	7	т.в.з.
12	6	10	2	5	20	18	18,7

Муниципальный этап всероссийской олимпиады школьников по искусству  
 (мировой художественной культуре)  
 Ханты-Мансийский автономный округ – Югра, 2024-2025 учебный год  
 Олимпиадные задания, 10 класс



1



2





Вопросы	Ответы
Как называются памятники архитектуры?	2 - казанский собор 7б
Место их расположения?	2 - Санкт-Петербург 1б
Кто автор?	2 - А. Воронихин 1б
Время строительства?	2 - 1801-1811 1б
В каком архитектурном стиле выполнены здания?	2 - классицизм 1 - классицизм 2б
Назначение?	2 - церковь в списке иконы Казанской богородицы Матери 0

6б

Муниципальный этап всероссийской олимпиады школьников по искусству  
(мировой художественной культуре)  
Ханты-Мансийский автономный округ – Югра, 2024-2025 учебный год  
Олимпиадные задания, 10 класс

Задание № 3 (32 балла)

Перед вами памятники храмовой архитектуры. Рассмотрите их внимательно и выполните задание:

1.		
2.		
3.		
4.		

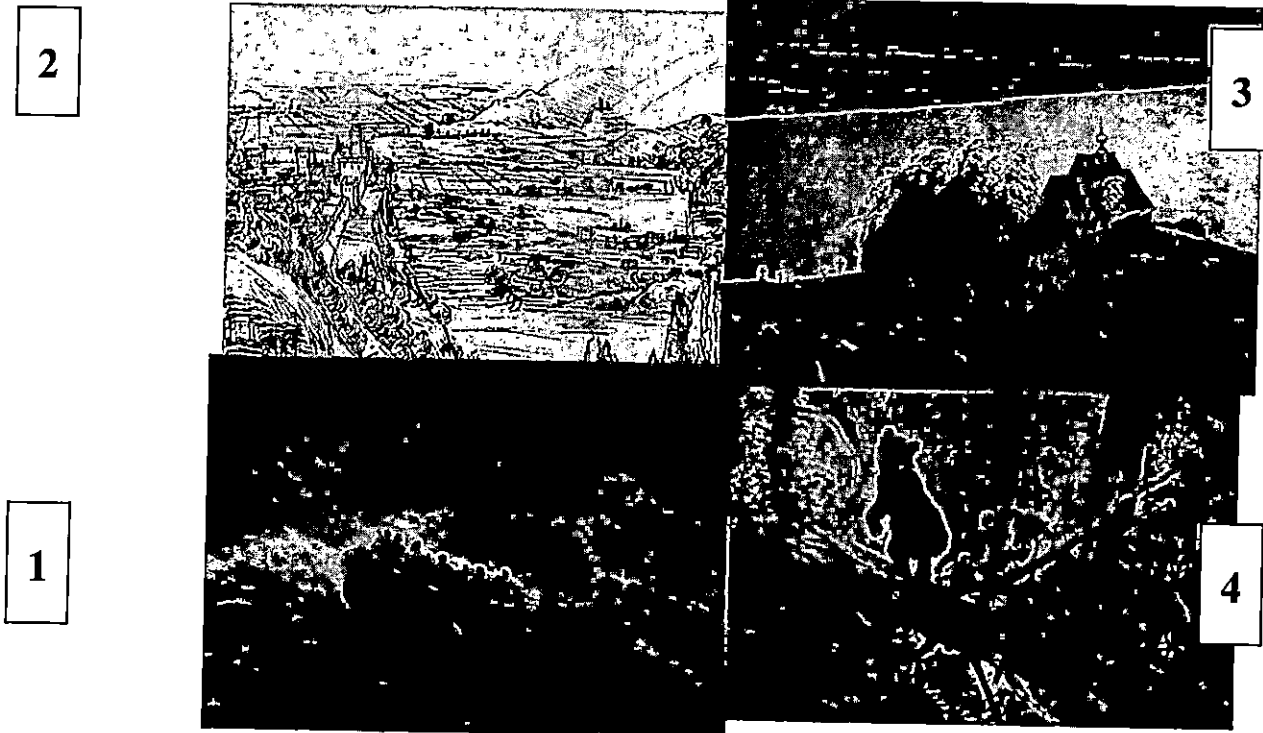
1. Назовите известные Вам памятники храмовой архитектуры?
2. Укажите место расположения объекта?
3. Выпишите, к какой религии имеет отношение каждое из сооружений?
4. В каком архитектурном стиле выполнены объекты?

Номер изображения	Название	Место расположения	К какой религии относится	Архитектурный стиль
1		Санкт-Петербург	христианство	классицизм
2			ислам	романский
3			христианство	античный
4		Москва	христианство	романский

(101)

**Задание № 4 (25 баллов)**

Перед вами собирательный образ живописного пейзажа. Рассмотрите его внимательно.



1. Какой фрагмент не должен быть частью этого живописного пейзажа? Приведите аргумент.
2. Какие произведения и авторов художников вы узнали?

1.  
2.  
3.

4. Шилкин «Утро в сосновом лесу» 25

3. Известны ли вам другие произведения этих художников?

1 художник:

2 художник:

3 художник:

4 художник: «Лесные дали»; «Рона»; «Рубка леса» 10

**Задание № 5 (22 балла)**


Прослушайте музыкальное произведение и выполните задания к нему.

1. Как называется музыкальное произведение?
5. Кто является его автором? Моцарт 5
3. Своими словами проанализируйте музыкальное произведение (опишите эмоциональную атмосферу, темп в котором оно написано, самостоятельное это произведение или является часть более крупного и т.д.).


**Задание № 6 (20 баллов)**

1. Перед вами ряд иллюстраций, на которых изображены здания с отчетливо читающимся архитектурным стилем. Разделите представленные в задании номера иллюстраций на несколько групп, исходя из того в каком стиле выполнено строение.


Муниципальный этап всероссийской олимпиады школьников по искусству  
(мировой художественной культуре)  
Ханты-Мансийский автономный округ – Югра, 2024-2025 учебный год  
Олимпиадные задания, 10 класс



1




2




3


Муниципальный этап всероссийской олимпиады школьников по искусству  
(мировой художественной культуре)  
Ханты-Мансийский автономный округ – Югра, 2024-2025 учебный год  
Олимпиадные задания, 10 класс




4



5



6




7


Муниципальный этап всероссийской олимпиады школьников по искусству  
(мировой художественной культуре)  
Ханты-Мансийский автономный округ – Югра, 2024-2025 учебный год  
Олимпиадные задания, 10 класс



8



9



10

Архитектурный стиль 1	247910	Готика + 5 + 5	
Архитектурный стиль 2	13568	Модерн . 5	15

10/5

2. На основании представленных фотографий сформулируйте и выскажите, какие эстетические особенности, на ваш взгляд, отличают этот архитектурный стиль от других.

Задание № 7 (24 балла)

1. Дан ряд слов. Их нужно разбить на 2 группы.
2. Дайте название каждой группе.

Конструктивизм, Капитель, Барокко, Барельеф, Амбир, Наличник, Минимализм, Кронштейн, Готика, Плафон, Модерн, Аркутан, Рококо, Сандрик.

1. Стили архитектуры: конструктивизм, барокко, минимализм, готика, модерн, рококо

5

7

2. Детали: капитель, барельеф, амбир, наличник, кронштейн, плафон, аркутан, сандрик.

6

18/5

Задание 6.2: На представленных фрагментах архитектуры стилей: готику и модерн. Готику от других стилей отличают остроконечные готические шпильки, придающие зданию величественный вид и торжественность. Закастую, как на изображении 2, у архитектуры в стиле готики по центру расположено красивое, украшенное узорами окно. Модерн отличается современностью, простотой и практичностью.

5

Задание 1.3: Перед нами картина Рембрандта "Возвращение блудного сына". Ее сюжет повествует об оригинальном эпизоде: некогда ушедший сын вернулся домой. Полотно выполнено в красных, темных, темных оттенках, они придают композиции торжественность и таинственность. На переднем плане изображен человек, упавший на колени перед своим отцом. Потемневший мужчина мягко мягко обнимает своего сына, положив ладони на его плечи. Задний фон словно завалено туманом, все выделено сконцентрировано именно на воссоединившейся семье. Сквозь темную пелену видны лица nearby: добрых людей. Эта картина вызывает чувство умиления и удивления.

2

Задание 4.1: Частью этого живописного пейзажа не может быть изображение 2, потому что оно выполнено в технике "графика", оно не цветное, в отличие от остальных полотен.

Задание 5.3: Это музыкальное произведение очень радостное, веселое, у него достаточно быстрый темп. Произведение поделено на 3 повторяющихся эпизода, которые достаточно стремительно сменяют друг друга.

738 ≠

твор. задание 18,7  
= 91.8