

10 КЛАСС

МХР 103

Инструкция по выполнению задания

Количество туров – *один тур.*


Время выполнения работы – *5 академических часов.*

Максимальное количество баллов за выполненные задания – 166 баллов.

При выполнении пятого задания необходимо обеспечить доступ к прослушиванию музыкальных фрагментов.

Задание № 1 (15 баллов)

На картине изображён финальный эпизод притчи, «и когда он был ещё далеко, увидел его отец его и сжалился; и, побежав, пал ему на шею и целовал его», а его старший праведный брат, оставшийся с отцом, «осердился и не хотел войти».



1. Как называется данная картина? *Возвращение блудного сына* 5
2. Назовите имя художника? *Диего Веласкес* 5
3. Проанализируйте работу автора (материалы, размер, годы создания, сюжет, композицию, цветовое решение, плановость и т.д.)?

Задание № 2 (15 баллов)

1. Проанализируйте два памятника архитектуры по представленным изображениям, заполните таблицу.

1	2	3	4	5	6	7	Всего	
15	12	18	2	7	20	5	97	19.3

155.

Муниципальный этап всероссийской олимпиады школьников по искусству
 (мировой художественной культуре)
 Ханты-Мансийский автономный округ – Югра, 2024-2025 учебный год
 Олимпиадные задания, 10 класс



1



2





Вопросы	Ответы
1. Как называются памятники архитектуры?	
2. Место их расположения?	г. Санкт-Петербург
3. Кто автор?	
4. Время строительства?	1750-1800 гг.
5. В каком архитектурном стиле выполнены здания?	Классицизм
6. Назначение?	Историческая ценность

12

Муниципальный этап всероссийской олимпиады школьников по искусству
(мировой художественной культуре)
Ханты-Мансийский автономный округ – Югра, 2024-2025 учебный год
Олимпиадные задания, 10 класс

Задание № 3 (32 балла)

Перед вами памятники храмовой архитектуры. Рассмотрите их внимательно и выполните задание:


1.	
2.	
3.	
4.	

1. Назовите известные Вам памятники храмовой архитектуры?
2. Укажите место расположения объекта?
3. Выпишите, к какой религии имеет отношение каждое из сооружений?
4. В каком архитектурном стиле выполнены объекты?

Номер изображения	Название	Место расположения	К какой религии относится	Архитектурный стиль
1		Россия	Христианство	Классицизм
2	Кааба	ОАЭ, Рядов	Ислам	
3		Индия	Иудеизм	18
4	Храм	Россия	Христианство	Барокко

Задание № 4 (25 баллов)

Перед вами собирательный образ живописного пейзажа. Рассмотрите его внимательно.



1. Какой фрагмент не должен быть частью этого живописного пейзажа? Приведите аргумент.
2. Какие произведения и авторов художников вы узнали?

- 1.
- 2.
- 3.

4. *Мишка на дереве*

3. Известны ли вам другие произведения этих художников?

1 художник:

2 художник:

3 художник:

4 художник:

Задание № 5 (22 балла)

Прослушайте музыкальное произведение и выполните задания к нему.

1. Как называется музыкальное произведение?




5. Кто является его автором?

3. Своими словами проанализируйте музыкальное произведение (опишите эмоциональную атмосферу, темп в котором оно написано, самостоятельное это произведение или является часть более крупного и т.д.).


Задание № 6 (20 баллов)

1. Перед вами ряд иллюстраций, на которых изображены здания с отчетливо читающимся архитектурным стилем. Разделите представленные в задании номера иллюстраций на несколько групп, исходя из того в каком стиле выполнено строение.

*Муниципальный этап всероссийской олимпиады школьников по искусству
(мировой художественной культуре)
Ханты-Мансийский автономный округ – Югра, 2024-2025 учебный год
Олимпиадные задания, 10 класс*




*Муниципальный этап всероссийской олимпиады школьников по искусству
(мировой художественной культуре)
Ханты-Мансийский автономный округ – Югра, 2024-2025 учебный год
Олимпиадные задания, 10 класс*



4



5



6




7


Муниципальный этап всероссийской олимпиады школьников по искусству
(мировой художественной культуре)
Ханты-Мансийский автономный округ – Югра, 2024-2025 учебный год
Олимпиадные задания, 10 класс



8



9



10

Архитектурный стиль 1	2, 4, 7, 9, 10 +
Архитектурный стиль 2	1, 3, 5, 6, 8

20 б.

2. На основании представленных фотографий сформулируйте и выскажите, какие эстетические особенности, на ваш взгляд, отличают этот архитектурный стиль от других.

Задание № 7 (24 балла)

1. Дан ряд слов. Их нужно разбить на 2 группы.
2. Дайте название каждой группе.

Конструктивизм, Капитель, Барокко, Барельеф, Амбир, Наличник, Минимализм, Кронштейн, Готика, Плафон, Модерн, Аркбутан, Рококо, Сандрик.

Архитектурные стили: Барокко, Барельеф, Минимализм, Готика, Модерн, Рококо, ~~Сандрик~~ Конструктивизм.

Архитектурные элементы: Капитель, Амбир, Наличник, Кронштейн, Плафон, Аркбутан, Сандрик.

5



Задание №1

3. Картина написана маслом в 1666-69 гг., размер 80x60, сюжет состоит в том, что блудный сын был еще жив, а праведный брат осердился и не ждал вайты, тенью: красное, желтое тон.

Задание №5

1. Пьяничья соната №11 (соната №11)
5. Вальс Амадей Моцарт
3. Относительно вострой темп на протяжении всей композиции, также веселая, заряжающая музыкальная атмосфера. А О Б.

Задание №6

2. В первом архитектурном стиле сильно выражены эстетические особенности, такие как, утонченность, острота, возвышенность структуры и неограниченность других стилей кругами, заточенные и почти всегда украшены крестами.

