

10 КЛАСС

МХР 102

Инструкция по выполнению задания

Количество туров – один тур.

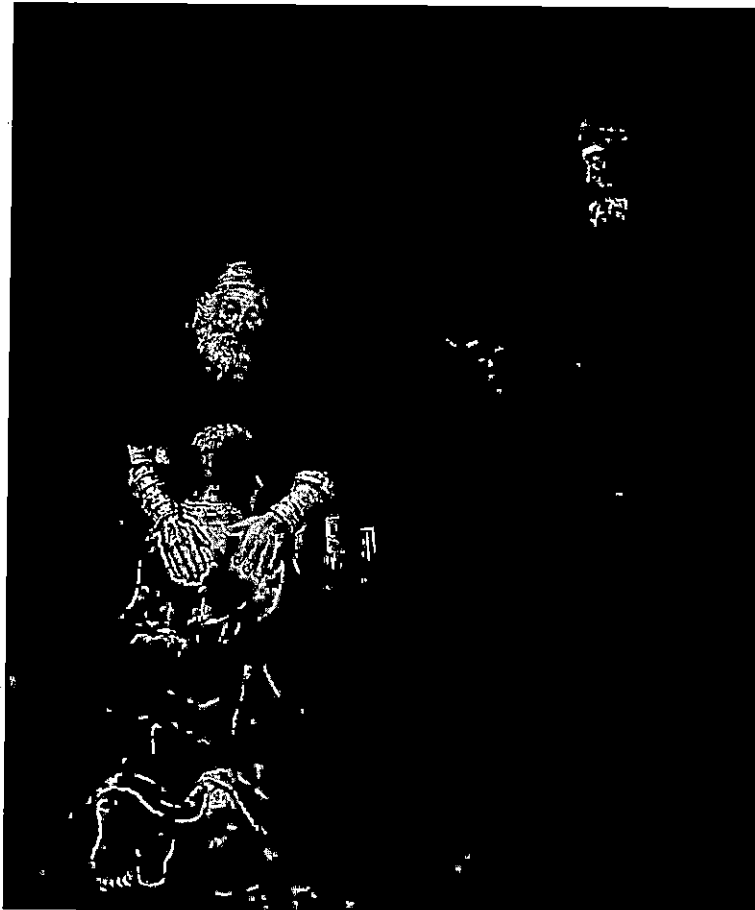
Время выполнения работы – 5 академических часов.

Максимальное количество баллов за выполненные задания – 166 баллов.

При выполнении пятого задания необходимо обеспечить доступ к прослушиванию музыкальных фрагментов.

Задание № 1 (15 баллов)

На картине изображён финальный эпизод притчи, «и когда он был ещё далеко, увидел его отец его и сжалился; и, побежав, пал ему на шею и целовал его», а его старший праведный брат, оставшийся с отцом, «осердился и не хотел войти».



1. Как называется данная картина?
2. Назовите имя художника?
3. Проанализируйте работу автора (материалы, размер, годы создания, сюжет, композицию, цветовое решение, плановость и т.д.)?

Задание № 2 (15 баллов)

1. Проанализируйте два памятника архитектуры по представленным изображениям, заполните таблицу.

1	2	3	4	5	6	7
15	6	4	8	15	8	22

78.

985.

Т. Заг. 20

Муниципальный этап всероссийской олимпиады школьников по искусству  
 (мировой художественной культуре)  
 Ханты-Мансийский автономный округ – Югра, 2024-2025 учебный год  
 Олимпиадные задания, 10 класс



1



2

Вопросы	Ответы
Как называются памятники архитектуры?	1) 2) <i>Казанский собор.</i> 1
Место их расположения?	1) 2) <i>Петербург.</i> 1
Кто автор?	1) 2) <i>А. Н. Воронихин.</i> 1
Время строительства?	1) 2) <i>1807 - 1811.</i> 1
В каком архитектурном стиле выполнены здания?	1) 2) <i>классицизм.</i> 1
Назначение?	1) 2) <i>собор построенный в честь иконы Божьей Матери.</i> 1

1992

3. Анализ ситуации на предприятии и в регионе в целом.  
Важнейшие проблемы и задачи на предприятии и в регионе в целом.  
Важнейшие проблемы и задачи на предприятии и в регионе в целом.

3. Анализ ситуации на предприятии и в регионе в целом.  
Важнейшие проблемы и задачи на предприятии и в регионе в целом.  
Важнейшие проблемы и задачи на предприятии и в регионе в целом.

3. Анализ ситуации на предприятии и в регионе в целом.  
Важнейшие проблемы и задачи на предприятии и в регионе в целом.  
Важнейшие проблемы и задачи на предприятии и в регионе в целом.



Муниципальный этап всероссийской олимпиады школьников по искусству  
 (мировой художественной культуре)  
 Ханты-Мансийский автономный округ – Югра, 2024-2025 учебный год  
 Олимпиадные задания, 10 класс


Задание № 3 (32 балла)

Перед вами памятники храмовой архитектуры. Рассмотрите их внимательно и выполните задание:


1.




2.



3.



4.




1. Назовите известные Вам памятники храмовой архитектуры?
2. Укажите место расположения объекта?
3. Выпишите, к какой религии имеет отношение каждое из сооружений?
4. В каком архитектурном стиле выполнены объекты?

Номер изображения	Название	Место расположения	К какой религии относится	Архитектурный стиль
1				
2		Иерусалим	ислам	1.
3				
4			христианство	2.

Задание № 4 (25 баллов)

Перед вами собирательный образ живописного пейзажа. Рассмотрите его внимательно.



1. Какой фрагмент не должен быть частью этого живописного пейзажа? Приведите аргумент.
2. Какие произведения и авторов художников вы узнали?

1. .

2.

3. И. К. Айвазовский "Добавный вал" 2

4. Шишкин И.И. "Утро в сосновом лесу" 2

3. Известны ли вам другие произведения этих художников?

1 художник:

2 художник:

3 художник: "Среди вали" "Водопад" 2 85

4 художник: "Восх." 2

Задание № 5 (22 балла)




Прослушайте музыкальное произведение и выполните задания к нему.

1. Как называется музыкальное произведение? Симфония
5. Кто является его автором? Гавриил Штайнберг 55
3. Своими словами проанализируйте музыкальное произведение (опишите эмоциональную атмосферу, темп в котором оно написано, самостоятельное это произведение или является часть более крупного и т.д.).


Задание № 6 (20 баллов)

1. Перед вами ряд иллюстраций, на которых изображены здания с отчетливо читающимся архитектурным стилем. Разделите представленные в задании номера иллюстраций на несколько групп, исходя из того в каком стиле выполнено строение.


Муниципальный этап всероссийской олимпиады школьников по искусству  
(мировой художественной культуре)  
Ханты-Мансийский автономный округ – Югра, 2024-2025 учебный год  
Олимпиадные задания, 10 класс




Муниципальный этап всероссийской олимпиады школьников по искусству  
(мировой художественной культуре)  
Ханты-Мансийский автономный округ – Югра, 2024-2025 учебный год  
Олимпиадные задания, 10 класс



4



5



6



7


Муниципальный этап всероссийской олимпиады школьников по искусству  
(мировой художественной культуре)

Ханты-Мансийский автономный округ – Югра, 2024-2025 учебный год


Олимпиадные задания, 10 класс



8



9



10

Архитектурный стиль 1	2, 3, 5, 6, 8.	4
Архитектурный стиль 2	2, 4, 7, 9, 10.	4

2. На основании представленных фотографий сформулируйте и выскажите, какие эстетические особенности, на ваш взгляд, отличают этот архитектурный стиль от других.

Задание № 7 (24 балла)

1. Дан ряд слов. Их нужно разбить на 2 группы.

2. Дайте название каждой группе.

Конструктивизм, Капитель, Барокко, Барельеф, Ампир, Наличник, Минимализм, Кронштейн, Готика, Плафон, Модерн, Аркбутан, Рокко, Сандрик.

1 группа (архитектурные стили): Барокко, Ампир, Минимализм, Готика, Рокко, Модерн, Конструктивизм.

2 группа (элементы архитектуры): Капитель, Кронштейн, Плафон, Барельеф, Наличник, Аркбутан, Сандрик.

225