



ВСЕРОССИЙСКАЯ ОЛИМПИАДА ШКОЛЬНИКОВ 2022/2023 гг.
МУНИЦИПАЛЬНЫЙ ЭТАП
ТЕХНОЛОГИЯ
ТЕХНИКА, ТЕХНОЛОГИИ И ТЕХНИЧЕСКОЕ ТВОРЧЕСТВО
9 КЛАССЫ

Шифр участника ТМТ95

12

Часть I

Инструкция по выполнению заданий

- Вам предстоит выполнить теоретические и тестовые задания.
Время выполнения заданий теоретического тура 2 академических часа (90 минут).
Выполнение теоретических (письменных, творческих) заданий целесообразно организовать следующим образом:
- не спеша, внимательно прочитайте задание и определите, наиболее верный и полный ответ;
 - отвечая на теоретический вопрос, обдумайте и сформулируйте конкретный ответ на поставленный вопрос;
 - если Вы выполняете задание, связанное с заполнением таблицы или схемы, не старайтесь детализировать информацию, вписывайте только те сведения или данные, которые указаны в вопросе;
 - особое внимание обратите на задания, в выполнении которых требуется выразить Ваше мнение с учетом анализа ситуации или поставленной проблемы. Внимательно и вдумчиво определите смысл вопроса и логику ответа (последовательность и точность изложения). Отвечая на вопрос, предлагайте свой вариант решения проблемы, при этом ответ должен быть кратким, но содержать необходимую информацию;
 - после выполнения всех предложенных заданий еще раз удостоверьтесь в правильности выбранных Вами ответов и решений.
- Выполнение тестовых заданий целесообразно организовать следующим образом:
- не спеша, внимательно прочитайте тестовое задание;
 - определите, какой из предложенных вариантов ответа наиболее верный и полный;
 - напишите букву, соответствующую выбранному Вами ответу;
 - продолжайте, таким образом, работу до завершения выполнения тестовых заданий;
 - после выполнения всех предложенных заданий еще раз удостоверьтесь в правильности ваших ответов;
 - если потребуется корректировка выбранного Вами варианта ответа, то неправильный вариант ответа зачеркните крестиком, и рядом напишите новый.
- Предупреждаем Вас, что:
- при оценке тестовых заданий, где необходимо определить один правильный ответ, 0 баллов выставляется за неверный ответ и в случае, если участником отмечены несколько ответов (в том числе правильный), или все ответы;
 - при оценке тестовых заданий, где необходимо определить все правильные ответы, 0 баллов выставляется, если участником отмечены неверные ответы, большее количество ответов, чем предусмотрено в задании (в том числе правильные ответы) или все ответы.
- Задание теоретического тура считается выполненным, если Вы вовремя сдаете его членам жюри.

Максимальная оценка – 25 баллов.

Желаем удачи!



ВСЕРОССИЙСКАЯ ОЛИМПИАДА ШКОЛЬНИКОВ 2022/2023 гг.
МУНИЦИПАЛЬНЫЙ ЭТАП
ТЕХНОЛОГИЯ
ТЕХНИКА, ТЕХНОЛОГИИ И ТЕХНИЧЕСКОЕ ТВОРЧЕСТВО
9 КЛАССЫ

Шифр участника ТМТ95

Общая часть

1. В летний сезон вырастает много фруктов, которые многие хозяйки консервируют. Для консервации необходим сахар, который покупают в большом количестве. Так, в один из дней было много желающих приобрести сахар в продуктовом магазине, что к обеду всё было распродано. Магазину пришлось заказать товар дополнительно. Какая рыночная ситуация представлена в данном примере?

- а) профицит товара
- б) превышение спроса над предложением
- в) конкуренция на рынке
- г) баланс спроса и предложения

Ответ: б)

2. Технологии изготовления микроскопических объектов из мельчайших частиц материи называют _____. Такие объекты обладают принципиально новыми качествами.

Ответ: _____

3. Технологическая операция - это:

- а) изменение форм, размеров и свойств материалов для получения определенного предмета;
- б) ряд действий, в результате которых заготовка превращается в готовое изделие;
- в) часть технологического процесса, выполненная на одном рабочем месте, одним рабочим;
- г) строгое соблюдение всех требований в процессе изготовления изделия

Ответ: б)

4. Что обозначает данный условный знак?



- а) не отжимать, не выкручивать
- б) машинная стирка запрещена
- в) только ручная стирка
- г) не стирать

Ответ: б)

5. Торговый знак, содержащий фирменное название продукции, символ компании, состав, рекламные материалы и инструкции для пользователя - это...

- а) маркировка
- б) этикетка
- в) вкладыш
- г) инструкция

Ответ: г)

Специальная часть

6. Назовите три породы древесины, характерной для Российской Федерации, которые обладают большой твердостью

Ответ: 1. Дуб, 2. Кедр, 3. Липа

7. Укажите два примера использования лазера в учебном процессе.

Ответ: 1. Хочет ли?, 2. ИКТ

8. Расшифруйте графический символ, используемый при маркировке обоев.

Ответ: Клейка с использованием клея





ВСЕРОССИЙСКАЯ ОЛИМПИАДА ШКОЛЬНИКОВ 2022/2023 гг.
МУНИЦИПАЛЬНЫЙ ЭТАП
ТЕХНОЛОГИЯ
ТЕХНИКА, ТЕХНОЛОГИИ И ТЕХНИЧЕСКОЕ ТВОРЧЕСТВО
9 КЛАССЫ

Шифр участника ТМТ95

9. Кто из перечисленных ниже специалистов принимает участие в определении пропорций будущего автомобиля, его размеров, размещение основных узлов и механизмов

- а) инженер;
- б) технолог;
- в) конструктор;
- г) дизайнер

Ответ: б)

10. Что за инструмент изображен на рисунке и для чего его используют?

Ответ: На рисунке изображен электро лобзик, он используется в целях быстрого разрезания материала



11. Что такое техническое творчество?

Ответ: Техническое творчество - это когда человек изобретает что-либо

12. По представленному фото определите тип станка, используемый для изготовления данного изделия из тонколистовой фанеры



Ответ: Лазерный станок

13. Вставьте пропущенное слово

_____ - охраняемый документ, удостоверяющий исключительное право, авторство и приоритет изобретения, полезной модели, промышленного образца либо селекционного достижения.

Ответ: _____

14. Вставьте пропущенное слово.

Творческая деятельность, направленная на достижение единства функциональных и эстетических аспектов называется ...

Ответ: _____



ВСЕРОССИЙСКАЯ ОЛИМПИАДА ШКОЛЬНИКОВ 2022/2023 гг.
МУНИЦИПАЛЬНЫЙ ЭТАП
ТЕХНОЛОГИЯ
ТЕХНИКА, ТЕХНОЛОГИИ И ТЕХНИЧЕСКОЕ ТВОРЧЕСТВО
9 КЛАССЫ

Шифр участника Т11795

+ 15. Сколько пачек чая нужно купить на две недели на семью из 8 человек, если в день они выпивают в среднем 3 пакетика на одного человека? В каждой пачке 100 пакетиков чая.

Ответ: 4 пачки

- 16. Запишите правильный ответ.

В графических редакторах иногда требуется заменить свойство объекта на противоположное (например, цвет или выделения). Как называется данный прием или понятие.

Ответ: Выделение, Замес

+ 17. Для чего производят закалку изделия

- а) Для повышения гибкости
- б) Для улучшения токопроводимости
- в) Для улучшения магнитных свойств
- г) Для увеличения прочности

Ответ: г)

+ 18. Назовите самый современный стиль

- а) ампир;
- б) модерн;
- в) барокко;
- г) готика;
- д) классицизм;
- е) эклектика;
- ж) античность;
- з) конструктивизм;
- и) этностиль;
- к) хай-тек

Ответ: к)

+ 19. Какой инструмент НЕ понадобится для проведения штукатурных работ при ремонте?

- а) отвес
- б) дрель с насадкой миксер
- в) уровень
- г) терка
- д) пассатижи

Ответ: д)

+ 20. Из предложенных вариантов выберите определение, характеризующее понятие «орнамент»

- а) это элемент композиции;
- б) это художественное произведение;
- в) это узор, составленный из элементов различной формы;
- г) это объемная композиция

Ответ: в)



ВСЕРОССИЙСКАЯ ОЛИМПИАДА ШКОЛЬНИКОВ 2022/2023 гг.
МУНИЦИПАЛЬНЫЙ ЭТАП
ТЕХНОЛОГИЯ
ТЕХНИКА, ТЕХНОЛОГИИ И ТЕХНИЧЕСКОЕ ТВОРЧЕСТВО
9 КЛАССЫ

2

Шифр участника ТМТ95

Кейс-задание

21. Продумайте эскиз для изготовления рамки для фотографии и разработайте технологическую карту изделия.

а) выберите материал и обоснуйте свой выбор

+ Выберу я материал: крашени дуб, так как он прочный и выглядит красиво.

б) выберите размеры заготовки, опишите ее

- Размер будет 6x5, а углубление по рамочку 95.

в) изобразите эскиз изделия с размерами

г) разработайте технологическую карту изделия с указанием операций, необходимых инструментов и оборудования

д) предложите способ художественного оформления изделия

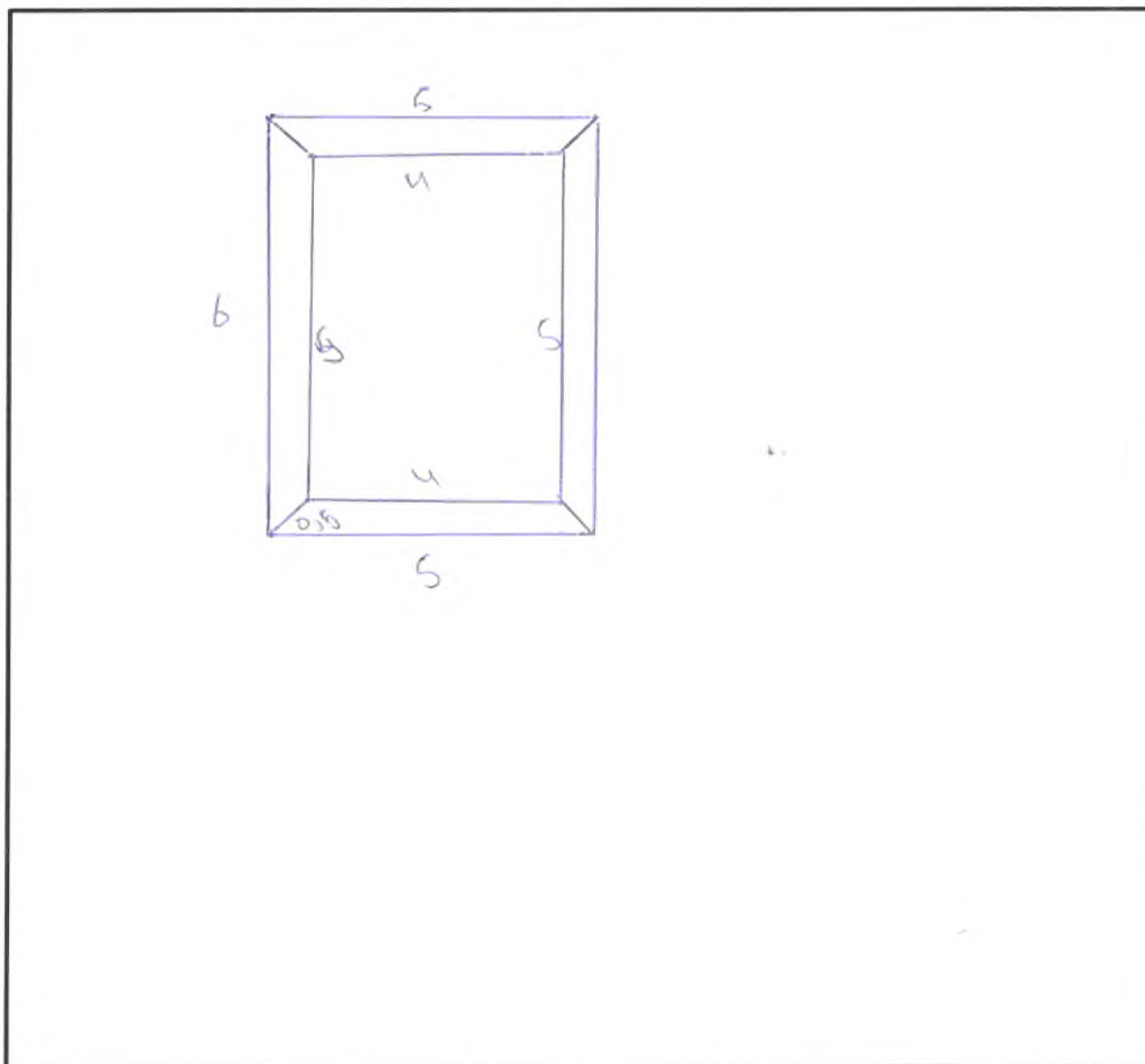
- Выпечка фанеры в стиле Древней Руси



ВСЕРОССИЙСКАЯ ОЛИМПИАДА ШКОЛЬНИКОВ 2022/2023 гг.
МУНИЦИПАЛЬНЫЙ ЭТАП
ТЕХНОЛОГИЯ
ТЕХНИКА, ТЕХНОЛОГИИ И ТЕХНИЧЕСКОЕ ТВОРЧЕСТВО
9 КЛАССЫ

Шифр участника ТМТ95

Эскиз





ВСЕРОССИЙСКАЯ ОЛИМПИАДА ШКОЛЬНИКОВ 2022/2023 гг.
МУНИЦИПАЛЬНЫЙ ЭТАП
ТЕХНОЛОГИЯ
ТЕХНИКА, ТЕХНОЛОГИИ И ТЕХНИЧЕСКОЕ ТВОРЧЕСТВО
9 КЛАССЫ

Шифр участника ТМ793

Практическое задание

Время выполнения – 180 мин.

Максимальное количество баллов – 35 баллов.


Практика по ручной деревообработке

Задание:

Сконструируйте и изготовьте модель транспортного средства

Технические условия:

1. По указанным данным, в М 1:1 (1:2) разработайте чертеж модели транспортного средства. Чертежи оформляйте на одном формате А 4, с указанием рамки и основной надписи.
2. Форму модели и ее элементов, конструируете самостоятельно (постарайтесь придать модели объем).
3. Внимательно конструируйте модель и планируйте свою работу, не превышайте временной лимит.
4. Материал изготовления – фанера.
5. Общие габаритные размеры заготовки: 300x300x4 мм. Предельные отклонения на все размеры готового изделия ± 1 мм.
6. Элементы соединяйте между собой клеем, подвижные - шурупами. Место разметки отверстий планируете самостоятельно. На чертеже укажите все габаритные размеры отверстий (если таковые имеются).
7. Количество элементов не менее – 5 шт.
8. Все углы и кромки притупить. Чистовую обработку выполнить шлифовальной шкуркой на тканевой основе средней зернистости.



Образцы моделей

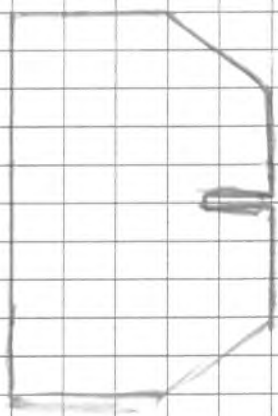
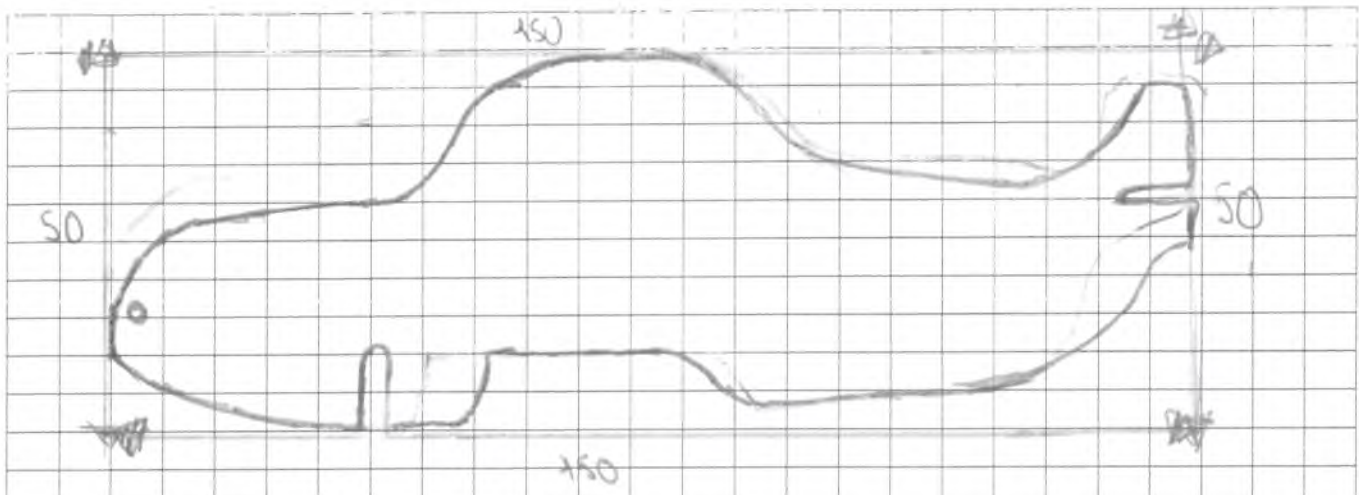


ВСЕРОССИЙСКАЯ ОЛИМПИАДА ШКОЛЬНИКОВ 2022/2023 гг.
МУНИЦИПАЛЬНЫЙ ЭТАП
ТЕХНОЛОГИЯ
ТЕХНИКА, ТЕХНОЛОГИИ И ТЕХНИЧЕСКОЕ ТВОРЧЕСТВО
9 КЛАССЫ



Шифр участника ТКПЗБ

Карта пооперационного контроля для участников и жюри
по Ручной деревообработке

№ п/п	Критерии оценивания	Макс. балл	Балл участника
1	Разработка рабочего чертежа в соответствии с ЕСКД: простановка габаритных размеров, размеров конструктивных элементов	3	3
2.	Разработка учебно-технологической карты изготовления деталей	5	5
3.	Дизайнерское решение (отличное от представленного образца)	2	2
Технология изготовления изделия по детально:			
5.	Деталь 1. Соблюдение линейных и цилиндрических размеров	2	2
6.	Деталь 1. Шероховатость	1	0
7.	Деталь 2. Соблюдение линейных и цилиндрических размеров	2	1
8.	Деталь 2. Шероховатость	1	0
9.	Деталь 3. Соблюдение линейных и цилиндрических размеров	2	2
10.	Деталь 3. Шероховатость	1	0
11.	Деталь 4. Соблюдение линейных и цилиндрических размеров	2	2
12.	Деталь 4. Шероховатость	1	0
13.	Деталь 5. Соблюдение линейных и цилиндрических размеров	2	2
14.	Деталь 5. Шероховатость	1	0
15.	Качество сборки	5	3
16.	Декоративная отделка детали (-лей)	5	3
	Итого	35	26





№	Описание	Эскиз	Материалы
1	Выборить и наметить на шде- ле эскиз		Линейка, карандаш
2	Выпесить по контуре, и про- сферлить отве- рстие		Стандартный Верстак, ЛОБЗИК
3	Все ушки и жабр- ышки отшлифо- вать, заточить		Шершавая бумага, напильник
4	Нанести рас- красочный ор- намент		Краски, ЛОК

