



ВСЕРОССИЙСКАЯ ОЛИМПИАДА ШКОЛЬНИКОВ 2020/2021 гг.
МУНИЦИПАЛЬНЫЙ ЭТАП
ТЕХНОЛОГИЯ
ТЕХНИКА, ТЕХНОЛОГИИ И ТЕХНИЧЕСКОЕ ТВОРЧЕСТВО
10 - 11 КЛАСС

Шифр участника 77111

Часть I

Инструкция по выполнению заданий

1. До начала выполнения тестового задания внимательно прочитайте полностью задание.
2. Выполняйте задания в предложенной последовательности.
3. Не задерживайтесь слишком долго, если не сможете выполнить определенное задание, переходите к следующему, лучше вернуться к нему в конце, если останется время.
4. В тестовом задании с выбором, правильных ответов может быть один или несколько. Тестовое задание считается выполненным, если в нем отмечены или записаны все правильные ответы и не отмечено ни одного неправильного ответа.
5. За каждое правильно выполненное тестовое задание №1-25 вы можете получить - 1 балл.
6. За творческое задание № 26 вы можете получить 10 баллов.
7. По данному комплекту можно получить максимальное количество – 35 баллов.
8. Время выполнения тестовых заданий 60 минут.

Желаем удачи!

Художественная обработка металлов

Выберете один вариант ответа

1. Роспись непрозрачной цветной стекловидной массой, наносимой на металл

- а) эмаль
- б) чернь
- в) гравировка
- г) заливка

Ответ А

Выберете один вариант ответа

2. Что не относится к видам художественной обработке металлов:

- а) литье
- б) ковку
- в) чеканку
- г) металлопластику
- д) гравировку
- е) травление
- ж) филигрань
- з) эмалирование
- и) маркетри

Ответ Е

Выберете один вариант ответа

3. Процесс деформации металла при помощи специального инструмента, рабочая поверхность которого повторяет конфигурацию изготавливаемой детали, называется:

- а) штамповка
- б) литье
- в) ковка
- г) заливка

Ответ А



ВСЕРОССИЙСКАЯ ОЛИМПИАДА ШКОЛЬНИКОВ 2020/2021 гг.
МУНИЦИПАЛЬНЫЙ ЭТАП
ТЕХНОЛОГИЯ
ТЕХНИКА, ТЕХНОЛОГИИ И ТЕХНИЧЕСКОЕ ТВОРЧЕСТВО
10 - 11 КЛАСС

Шифр участника 7711

Материаловедение

4. Сухая березовая дощечка размером $9 \times 10 \times 1 \text{ см}^3$ (90 см^3) имеет массу 54 г. Вычислите плотность древесины 0,6

5. Найдите соответствие между названиями сталей и деталями, которые изготавливают из этой стали

1	Конструкционные стали	А	Стамеска, сверло, штангенциркуль
2	Инструментальные стали	Б	Пружины, трубы
3	Специальные стали	В	Болты, гайки, корабли.

Ответ ВАБ

Технологии обработки конструкционных материалов

Выберите один вариант ответа

6. Лушение – это...

- а) процесс обработки деталей абразивными инструментами с целью придания гладкости.
- б) процесс поперечного резания древесины с целью получения шпона заданной толщины, при котором траектория резания представляет собой спираль
- в) технологическая операция, цель которой – получение детали с поверхностями тел вращения
- г) процесс обработки цилиндрических отверстий при поступательной подаче материала или сверла в направлении оси вращения инструмента

Ответ г

Выберите один вариант ответа

7. Какой должен быть угол заточки спирального сверла для сверления пластмасс?

- а) $90-100^\circ$
- б) $130-140^\circ$
- в) $118-120^\circ$
- г) $20-50^\circ$

Ответ в

Выберите один вариант ответа

8. Определить годность размера по результатам измерения.

Условие: на чертеже указан диаметр 32 ± 0.05 ; измерением установлен действительный размер $d=31.72 \text{ мм}$.

Примечание: размер считается годным, если соблюдается условие $d_{\max} \geq d \geq d_{\min}$.

- а) не годный
- б) годный

Ответ А

Выберите один вариант ответа



ВСЕРОССИЙСКАЯ ОЛИМПИАДА ШКОЛЬНИКОВ 2020/2021 гг.
 МУНИЦИПАЛЬНЫЙ ЭТАП
 ТЕХНОЛОГИЯ
 ТЕХНИКА, ТЕХНОЛОГИИ И ТЕХНИЧЕСКОЕ ТВОРЧЕСТВО
 10 - 11 КЛАСС

Шифр участника 77111

9. Определить величину допуска (Т), по заданному номинальному размеру и предельным отклонениям $10^{+0,03}$ мм.

- а) 0,06 мм
- б) 0,03 мм;
- в) 0 мм;
- г) 10,03 мм.

Ответ г

Выберите один вариант ответа

10. Какой механизм токарного станка передает вращательное движение от передней бабки к коробке подач?

- а) Ременной
- б) Реверсивный
- в) Коробка скоростей
- г) Гитарный

Ответ а

Инженерная и техническая графика

Выберите один вариант ответа

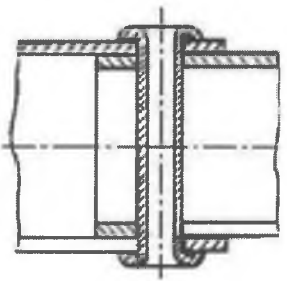
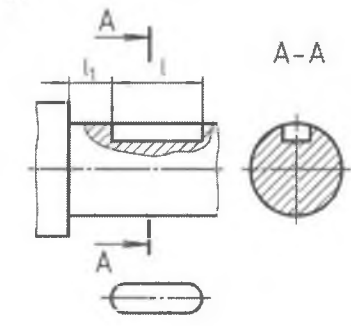
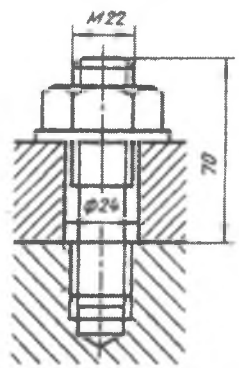

11. Какой разрез образован несколькими секущими плоскостями?

- а) наклонный
- б) ступенчатый
- в) местный
- г) горизонтальный

Ответ б

12. Найдите соответствие крепежных соединений с их наименованием.

Ответ запиши Цифра - Буква.

(1) шпильчное	(2) заклепочное	(3) шпоночное	(4) винтовое
А 	Б 	В 	Г 

Ответ А Б Г В

Ремонтно-строительные работы

Выберите один вариант ответа

13. Какие краски изготавливают смешиванием олифы с сухими пигментами?

- а) акриловые



ВСЕРОССИЙСКАЯ ОЛИМПИАДА ШКОЛЬНИКОВ 2020/2021 гг.
МУНИЦИПАЛЬНЫЙ ЭТАП
ТЕХНОЛОГИЯ
ТЕХНИКА, ТЕХНОЛОГИИ И ТЕХНИЧЕСКОЕ ТВОРЧЕСТВО
10 - 11 КЛАСС

Шифр участника ТТН

- б) эмали
- в) масляные
- г) акварельные

— Ответ А

Выберите один или несколько вариантов ответа

14. Какая кисть предназначена для проведения узких горизонтальных полос? (например, чтобы закрасить неровный стык двух красок разного цвета на стене)

- а) филёночная
- б) флейцевая
- в) побелочная
- г) макловица
- д) глазурированная

— Ответ Б

Социальные технологии

15. Выберите все правильные утверждения:

Некоммерческая организация (НКО) - это организация:

- а) не имеющая в качестве основной цели своей деятельности извлечение прибыли,
- б) созданная для достижения социальных, благотворительных, культурных, образовательных и научных целей,
- в) саморегулируемая организация в сфере финансового рынка, объединяющая страховые организации,
- г) представляющая угрозу основам конституционного строя РФ, обороноспособности страны и безопасности государства,
- д) реализующая проекты в сфере защиты прав и свобод человека и гражданина,
- е) объединяющая субъекты предпринимательской деятельности, работающие в определённой отрасли производства товаров (работ, услуг).

+ Ответ: АБ

Выберите один правильный ответ

16. Подход, позволяющий улучшить качество жизни пациентов (детей и взрослых) и их семей, столкнувшихся с проблемами, связанными с опасным для жизни заболеванием, путём предотвращения и облегчения страданий, а также оказания психосоциальной и духовной поддержки называется:

- а) паллиативная помощь
- б) волонтерство
- в) здравоохранение

+ Ответ: А

Агрономия

Выберите правильный вариант ответа

17. Какие неорганические вещества, входят в состав почвы

- а) песок, глина, чернозём, воздух, минеральные вещества
- б) песок, глина, вода, воздух, перегной
- в) песок, глина, вода, воздух, минеральные вещества



ВСЕРОССИЙСКАЯ ОЛИМПИАДА ШКОЛЬНИКОВ 2020/2021 гг.
МУНИЦИПАЛЬНЫЙ ЭТАП
ТЕХНОЛОГИЯ
ТЕХНИКА, ТЕХНОЛОГИИ И ТЕХНИЧЕСКОЕ ТВОРЧЕСТВО
10 - 11 КЛАСС

Шифр участника ТТМ

г) песок, глина, минеральные вещества

Ответ В

Предпринимательская деятельность

Выберите один вариант ответа

18. Зарботная плата работника в июне составила 17000 рублей, а в августе 18400 рублей, инфляция за период составила 6%. Работник за этот период стал реально:

- а) богаче на 2,2 %
- б) беднее на 6 %
- в) беднее на 2,2%
- г) богаче на 6%

Ответ А

Профориентация

19. Определите сферы профессиональной деятельности и отрасли

1. Сфера материального производства	а) наука
	б) образование
	в) торговля
	г) финансы
2. Непроизводственная сфера	д) строительство
	е) промышленность
	ж) Лесное хозяйство

Ответ 1 ДЕЖ 2 АБВГ

Автоматика и автоматизация промышленного производства

Выберите один вариант ответа

20. Как называется процесс замены ручных средств труда машинами и механизмами?

- а) механизация
- б) автоматизация
- в) алгоритмизация
- г) компьютеризация

Ответ Б

Выберите один вариант ответа

21. Как расшифровывается САПР?

- а) системы автоматического производства
- б) система алгоритмизации производства
- в) система автоматизации проектных работ
- г) система автоматизации промышленных работ

Ответ Б

Лазерные технологии. Нанотехнологии

Выберите один или несколько вариантов



ВСЕРОССИЙСКАЯ ОЛИМПИАДА ШКОЛЬНИКОВ 2020/2021 гг.
МУНИЦИПАЛЬНЫЙ ЭТАП
ТЕХНОЛОГИЯ
ТЕХНИКА, ТЕХНОЛОГИИ И ТЕХНИЧЕСКОЕ ТВОРЧЕСТВО
10 - 11 КЛАСС

Шифр участника ТТ АА

22. Укажите все верные утверждения. Среди достоинств нанопроволоки можно указать следующее:

- а) предел прочности в десятки раз ниже, чем у обычной проволоки
- б) почти отсутствует пластическая деформация
- в) прочнее в десятки раз, чем обычная проволока
- г) это монокристалл, в кристаллической решетке которого практически отсутствуют дефекты
- д) при деформации легко образуются микротрещины

Ответ вг

Выберете один вариант ответа

23. Если поверхность пластины батареек и аккумуляторов покрыть нанокристаллами, то их мощность

- а) увеличится
- б) уменьшится

Пояснение: чем больше площадь электродов батареек и аккумуляторов, тем больший ток они могут давать. Чтобы увеличить площадь электродов их поверхность можно покрыть проводящими нанокристаллами. В результате, активная площадь обмена ионами одного грамма пористого углерода, из которого сделан анод, после покрытия нанокристаллами площадь увеличивается с трёх до ста квадратных метров. Аккумуляторы, пластины которых покрыты наночастицами, способны набирать 80% своей емкости всего за одну минуту зарядки.

Ответ А

Электротехника и электроника

Выберете один или несколько вариантов ответа

24. Какое сочетание потребителей электроэнергии можно включить одновременно в розетку, если максимально допустимая мощность электросети 2000 Вт?

- а) холодильник (300 Вт) + утюг (1,4 кВт)+ноутбук (80 Вт)
- б) утюг (1,4 кВт)+электрический чайник (1200 Вт)
- в) строительный фен (1 кВт)+электрический чайник (1200 Вт)
- г) ноутбук (80 Вт) + утюг (1,4 кВт)+телевизор (0,25 кВт)

Ответ А

Производство и окружающая среда

Выберете правильный вариант

25. Комплексное использование сырья и энергии в цикле:

сырьевые ресурсы – производство – потребление – вторичные ресурсы соответствует

- а) малоотходной технологии
- б) безотходной технологии
- в) исчерпывающей технологии
- г) развивающейся технологии

Ответ б

26. Творческое задание: Проектирование процесса изготовления винта М8*1 L= 45мм с прямой головкой D=14 мм Н=3, полная резьба.



ВСЕРОССИЙСКАЯ ОЛИМПИАДА ШКОЛЬНИКОВ 2020/2021 гг.
МУНИЦИПАЛЬНЫЙ ЭТАП
ТЕХНОЛОГИЯ
ТЕХНИКА, ТЕХНОЛОГИИ И ТЕХНИЧЕСКОЕ ТВОРЧЕСТВО
10 - 11 КЛАСС

Шифр участника 7711





Порядок работы:

1. выполните чертеж изделия с указанием соответствующих размеров,
2. перечислите инструменты, приспособления и оборудование, необходимые для изготовления изделия,
3. перечислите, какие технологические операции необходимы для изготовления **изделия**

инструменты, приспособления и оборудование:

Напильник по металлу, Резьбодруж, сверлошпильщик или.

технологические операции:

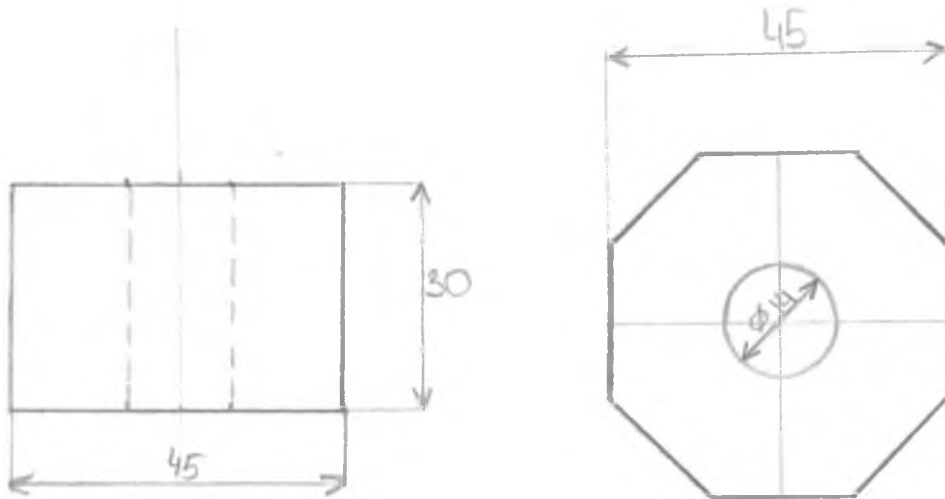
-  1. Создаём квадратную заготовку 50x50x30
-  2. Придаём заготовке восьмиугольную форму
-  3. По центру просверливаем отверстие диаметром 14 мм
-  4. Создаём резьбу внутри винта



ВСЕРОССИЙСКАЯ ОЛИМПИАДА ШКОЛЬНИКОВ 2020/2021 гг.
МУНИЦИПАЛЬНЫЙ ЭТАП
ТЕХНОЛОГИЯ
ТЕХНИКА, ТЕХНОЛОГИИ И ТЕХНИЧЕСКОЕ ТВОРЧЕСТВО
10 - 11 КЛАСС

Шифр участника 7744

чертеж



Масштаб 1:1



ВСЕРОССИЙСКАЯ ОЛИМПИАДА ШКОЛЬНИКОВ 2020/2021 гг.
МУНИЦИПАЛЬНЫЙ ЭТАП
ТЕХНОЛОГИЯ
ТЕХНИКА, ТЕХНОЛОГИИ И ТЕХНИЧЕСКОЕ ТВОРЧЕСТВО
10-11 КЛАСС

Шифр участника _____ ТТ 112


Время выполнения – 150 мин. (2,5 ч)

Практическое задание

Задание: Изготовить органайзер-подставку под смартфон по шаблону.

Материал: Две заготовки фанеры: 220×190×40, 150×170×40 (все размеры даны в мм).

Инструменты: карандаш, угольник, ручной лобзик, напильник прямоугольного сечения, набор надфилей, наждачная бумага, клей ПВА, сверло Ø 6, ручная или электрическая дрель.

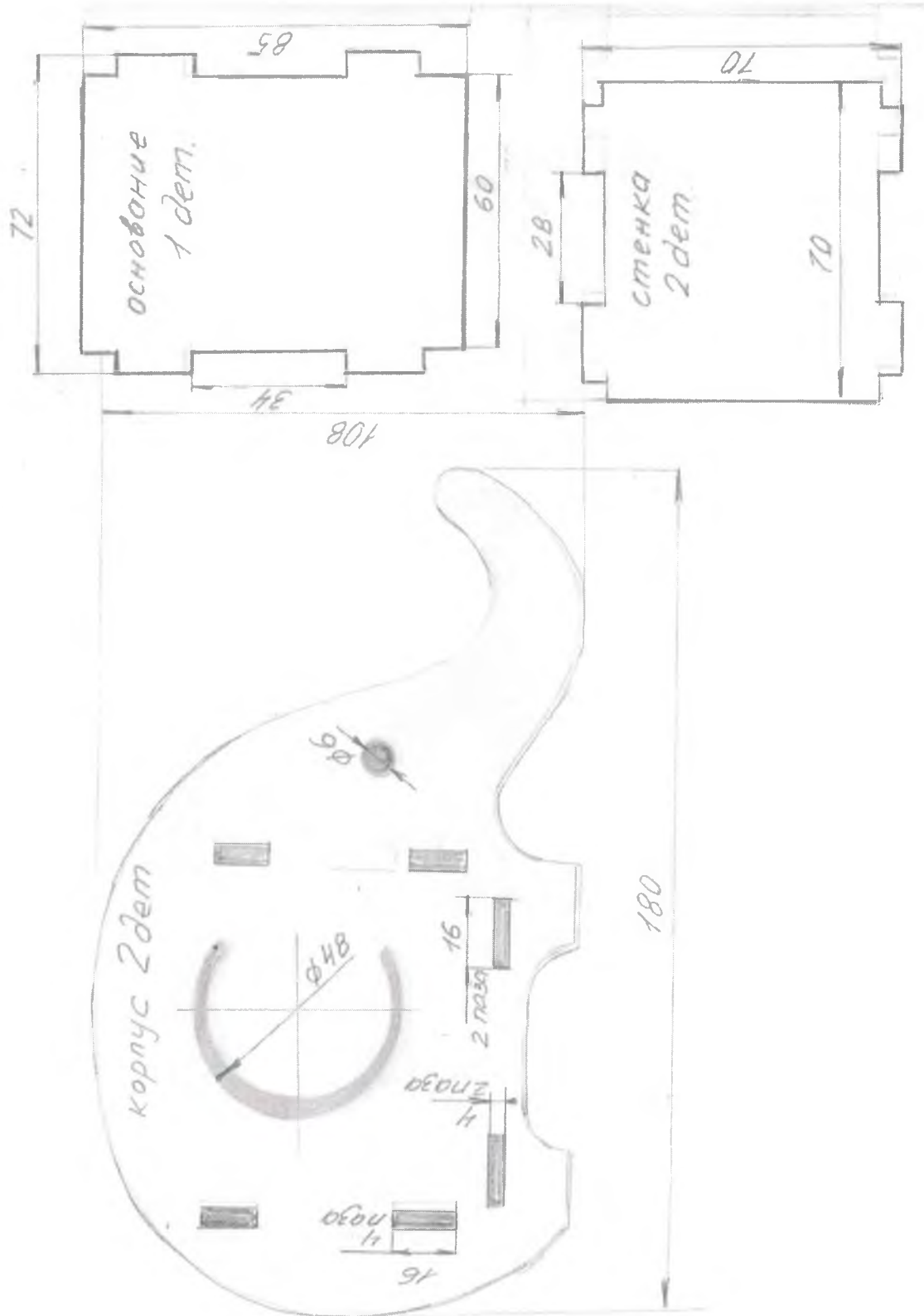




ВСЕРОССИЙСКАЯ ОЛИМПИАДА ШКОЛЬНИКОВ 2020/2021 гг.
МУНИЦИПАЛЬНЫЙ ЭТАП
ТЕХНОЛОГИЯ
ТЕХНИКА, ТЕХНОЛОГИИ И ТЕХНИЧЕСКОЕ ТВОРЧЕСТВО
10-11 КЛАСС

Шифр участника _____

Шаблон





77112

ВСЕРОССИЙСКАЯ ОЛИМПИАДА ШКОЛЬНИКОВ 2020/2021 гг.
МУНИЦИПАЛЬНЫЙ ЭТАП
ТЕХНОЛОГИЯ
ТЕХНИКА, ТЕХНОЛОГИИ И ТЕХНИЧЕСКОЕ ТВОРЧЕСТВО
10-11 КЛАСС

Шифр участника _____

Пооперационная карта контроля

№ п/п	Критерии оценки	К-во баллов	Оценка жюри
1.	Наличие рабочей формы (халат, головной убор)	3	3
2.	Соблюдение правил безопасной работы. Культура труда (порядок на рабочем месте, трудовая дисциплина)	5	5
3.	Подготовка рабочего места, материала, инструментов	2	2
4.	Технология изготовления изделия:	25	
	- технологическая последовательность изготовления изделия;	10	6
	- разметка заготовки в соответствии с техническими условиями и разработанным чертежом (см. чертеж);	2	2
	- разметка и сверление отверстия;	2	2
	- выполнение контурной резки декоративного элемента;	2	2
	- точность изготовления готового изделия в соответствии с техническими условиями и разработанным чертежом (± 1 мм);	5	5
	- качество и чистовая обработка готового изделия	2	2
	Финишная отделка	2	2
5.	Уборка рабочего места	2	2
6.	Время изготовления	3	1
	Итого:	40	34

Технологическая карта

1 Взять заготовки $220 \times 190 \times 40$, $150 \times 170 \times 40$



2 Перенести эскизы на заготовки (карандашом)



3 Вырезать детали по контуру (ручной пилкой)



4 Вырезать в заготовках необходимые отверстия. (сверло, ручной пилкой)



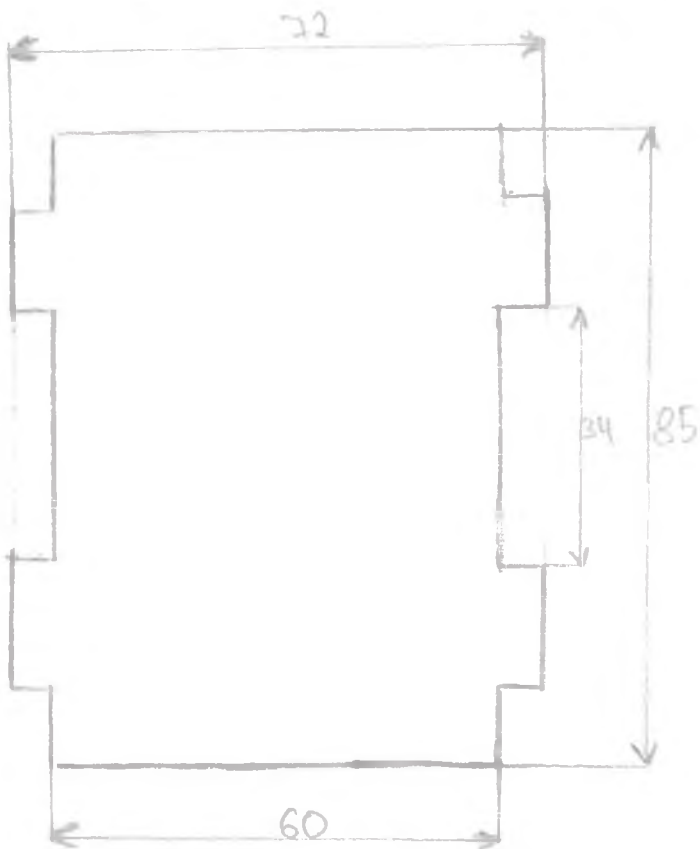
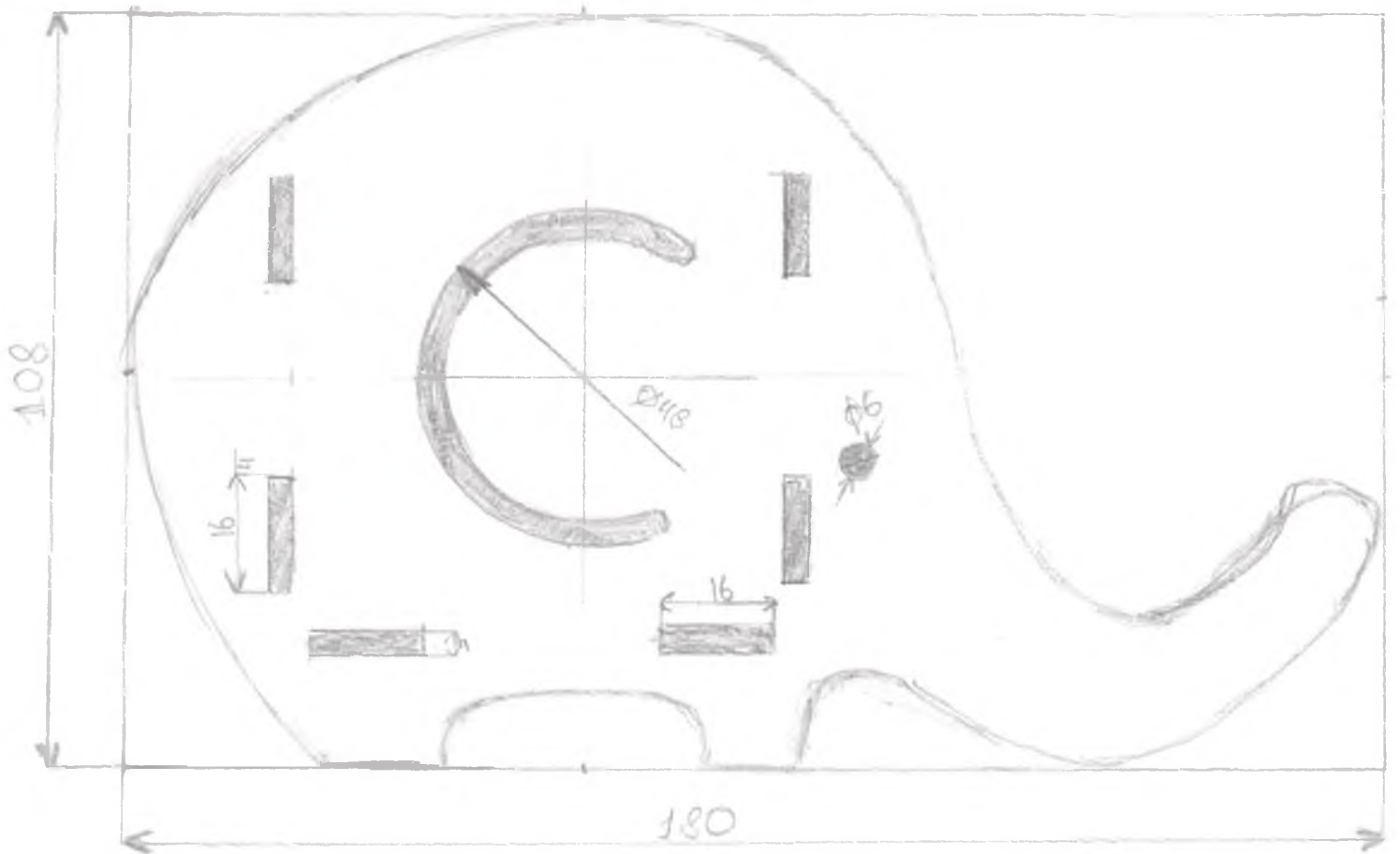
5 Придать деталям готовый вид (шпатель)



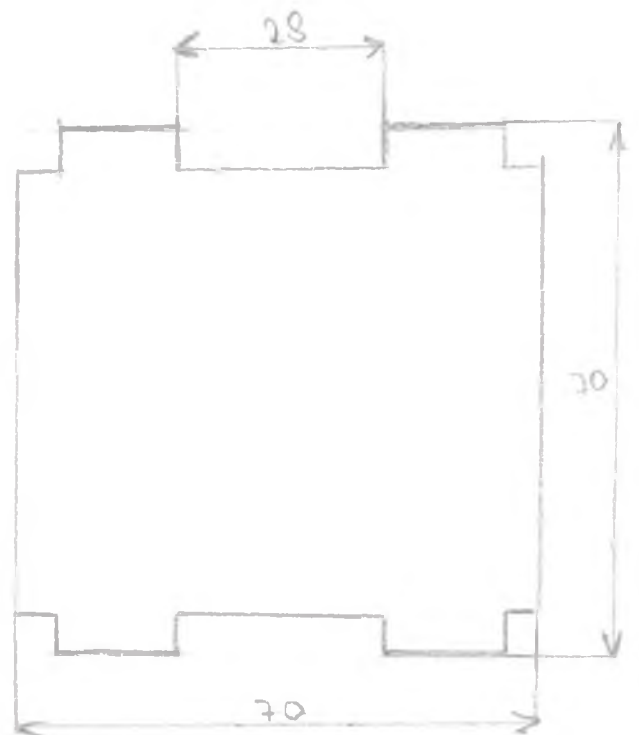
6 Собрать детали вместе



Копрыя 2 гет.



Основа 1 гет.



Степа 2 гет.

Машина 1:1