









Критерии оценки вопросов с 1 по 19 – 1 балл за правильный ответ,
творческое задание (20 вопрос) – 6 баллов.

Технологии производства и обработки пищевых продуктов

Выберите правильный ответ

1. Внимательно посмотри на картинку. Выбери посуду, которую используют для подачи блюд.

			
1	2	3	4
			
5	6	7	8

а) 1, 4, 5, 7

б) 1, 4, 5, 6

в) 1, 3, 4, 5

г) 2, 3, 6, 7

2. Какое требование к качеству готовых бутербродов является неправильным?

а) Готовятся непосредственно перед подачей

б) Ломтик хлеба должен быть толщиной 2 см

в) Хлеб должен быть полностью покрыт продуктами

г) Срок хранения в холодильнике при $t=+2...+6^{\circ}\text{C}$ не более 3-х суток

3. Вы собираетесь в поход с 25 июня по 7 июля 2019 года, и пришли в магазин, чтобы купить рыбные консервы. На банке выбиты следующие даты. Что Вы купите?

а) 03.06.2018; 03.06.2019

б) 25.06.2017; 07.08.2018

в) 19.01.2018; 19.01.2019

г) 29.08.2018; 29.08.2019

Материаловедение текстильных материалов

4. Расставьте по порядку операции первичной обработки льна:

а) сминание,

б) замачивание,

в) высушивание,

г) трепание.

Ответ: 1 - а, 2 - б, 3 - г, 4 - в.


Выберите все правильные ответы

5. Для технических нужд во многих отраслях народного хозяйства используются:

- а) брезент, в) парча,
б) парусина, г) бархат.

Машиноведение

6. Современные бытовые швейные машинки облегчают работу любителей и профессионалов и просты в использовании. А что означают изображения черепахи и зайчика на корпусе?



Ответ: скорость шитья

Выберите все правильные ответы

7. Чаще всего к обрыву верхней нити приводят следующие причины:

- а) толщина нити не соответствует выбранной игле;
 б) ошибки в заправке;
 в) установлена нить плохого качества, с неравномерной толщиной и узелками;
г) игла установлена неправильно, она погнута или не соответствует типу машины;
 д) излишнее натяжение верхней нити.

Конструирование и моделирование швейных изделий

8. Постройте выкройки мешка для школьной обуви, высота мешка – 40 см, диаметр днища – 25 см. Если для построения вам понадобятся математические формулы, напишите их.



Ответ:

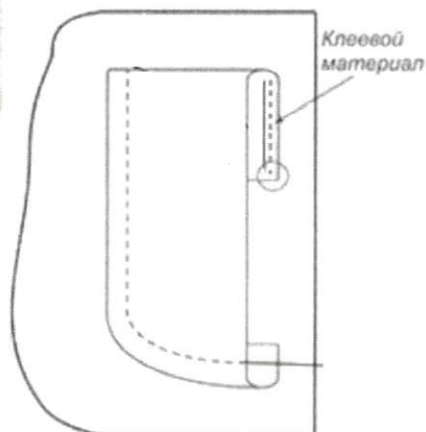
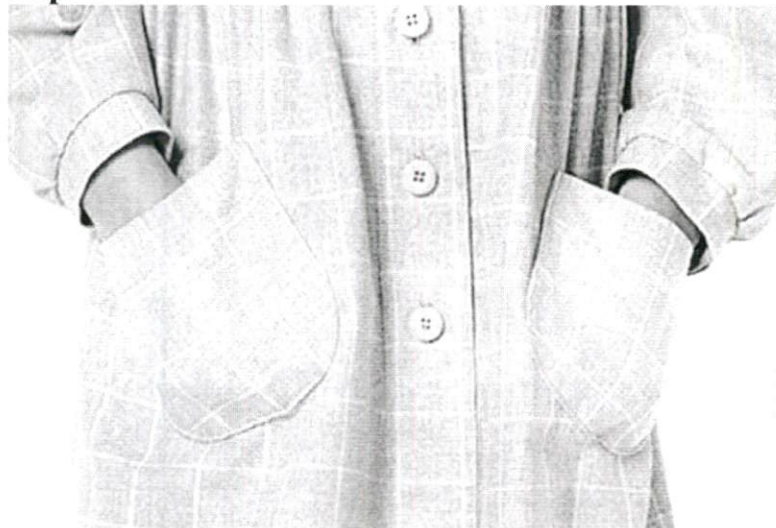
Формула _____

9. Перечислите швы, где может располагаться застежка в прямой юбке?

Ответ: На верхней части шва, сбоку

Технология изготовления швейных изделий

10. Приведите правильную последовательность обработки накладного кармана:



- удалить стежки временного назначения;
- обметать верхний срез цельнокроеной обтачки накладного кармана;
- заутюжить цельнокроеную обтачку по контрольным знакам на изнаночную сторону кармана;
- приутюжить карман в готовом виде;
- приметать накладной карман к детали швейного изделия по контрольным знакам;
- приклеить клеевой прокладочный материал к цельнокроеной обтачке кармана;
- заутюжить припуски на обработку кармана по трём сторонам;
- настрочить карман на деталь швейного изделия.

Ответ: 1 - а, 2 - д, 3 - з, 4 - ж, 5 - б, 6 - в, 7 - г, 8 - е.

Выберите правильный ответ

11. При раскрое изделия в первую очередь на ткани размещают:

- большие детали (полочки, рукава, полотнища юбки);
- маленькие детали (клапана, обтачки, манжеты).

История костюма

Выберите все правильные ответы

12. Что такое дресс-код (dress code)?

- а) требования к офисной одежде сотрудников;
- б) форма одежды, требуемая при посещении определенных мероприятий, организаций, заведений;
- в) комплект одежды, обуви и аксессуаров, подобранных из вещей одного бренда;
- г) манера одеваться в определенной социальной группе.


Выберите все правильные ответы

13. Что отличает морской стиль от других?

- а) бело-сине-красное сочетание цветов;
- б) кружева и рюши;
- в) основной рисунок – полоска;
- г) украшения с изображением якорей, цепей, морских звезд.

Технологии в сфере быта

14. Выбери из представленных изображений главные элементы зоны приготовления пищи



15. Мебель и оборудование на кухне расставляется по принципу рабочего треугольника. Что входит в этот треугольник. Выбери правильный ответ.

- а) мойка, плита, холодильник
- б) стол, мойка, плита
- в) холодильник, стол, мойка
- г) плита, холодильник стол

Художественная обработка материалов

Выберите правильный ответ

16. Выбор диаметра крючка для вязания крючком зависит от

- а) желания мастера,
- б) вида изделия,
- в) типа рисунка,
- г) толщины нитей.

Социальные технологии

Выберите все правильные ответы

17. Какие факторы необходимо учитывать при оформлении интерьера жилого помещения.

- а) природные условия;
- б) возраст людей;
- в) назначение помещения;
- г) климатические условия;
- д) художественные предпочтения;
- е) пожелания соседей.

Агрономия

Выберите правильный ответ

18. Какой вид культуры не относится к масленичным:

- а) подсолнечник
- б) горчица
- в) рапс
- г) горох

Выберите правильный ответ

19. Верхний слой земной коры с рыхлой структурой называется

- а) почва
- б) гумус
- в) чернозем
- г) глинозем

20. Творческое задание:

Худи — разновидность свитера из мягкого хлопчатобумажного трикотажа или флиса с капюшоном, по российской классификации его связывают с толстовкой. Выступите в роли дизайнера и внесите свои модельные особенности и декорируйте изделие.

№	Критерии оценки	Баллы max
1	Внесены модельные особенности	2
2	Внесены элементы декора	2
3	Выдержано стилевое направление	1
4	Чистота выполнения задания	1
	Итого	6



Шифр участника ТШ 75

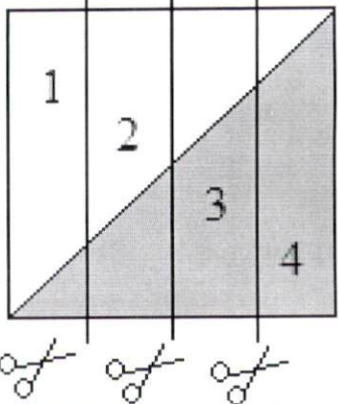
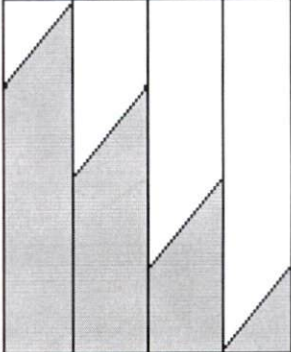
Практическое задание №1

Изготовление блока в технике лоскутного шитья



Материалы: х/б ткань размером 300*300 мм 2 цветов, нитки в тон.

Описание операции	Графическое изображение
1. Из каждой ткани выкроить квадрат размером 250*250 мм.	
2. Сложить квадраты лицом друг к другу, сколоть булавками, наметить диагональ. Стачать квадраты вместе по пунктирным линиям (шириной шва 7 мм от диагонали).	
3. Разрезать квадрат по диагонали. Развернуть. Припуски на швы заутюжить в сторону более темной ткани.	

<p>4. Разрезать заготовку на 4 равные части. Части 1 и 4 поменять местами. Части 2 и 3 поменять местами.</p>	
<p>4. Собрать фрагменты в блок. Припуски на швы заутюжить в сторону более темной ткани.</p>	
<p>5. Выполнить окончательную ВТО образца</p>	

**Карта послеоперационного контроля
 Изготовление блока в технике лоскутного шитья**

№	Критерии оценки	Баллы max	Баллы факт
1	Гармоничное сочетание цветов	2	2
2	Блок собран по схеме	5	5
3	Швы параллельны друг другу (± 1 мм)	5	3
4	Ширина припусков 7 мм	3	2
5	Припуски заутюжены в одном направлении	2	2
6	Качество окончательной влажно-тепловой обработки (да/нет)	2	1
7	Соблюдение безопасных приемов труда (да/нет)	1	1
	Итого	20	168

Шифр участника 7М75

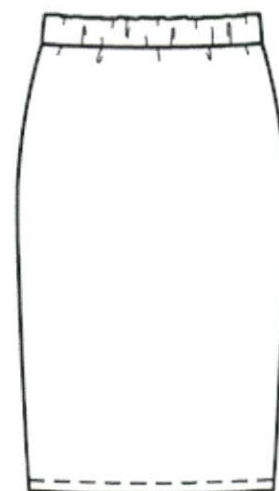
Практическое задание №2

Моделирование юбки по эскизу и подготовка выкройки к раскрою

Порядок выполнения работы

1. На основу чертежа юбки нанесите линии фасона. Выполните моделирование.
2. Изготовьте из цветной бумаги лекала для раскладки на ткани.
3. Нанесите на лекала необходимые надписи для раскроя.

Эскиз



Описание модели

Юбка-карандаш с иллюзией запаха длиной по колено из трикотажного полотна.

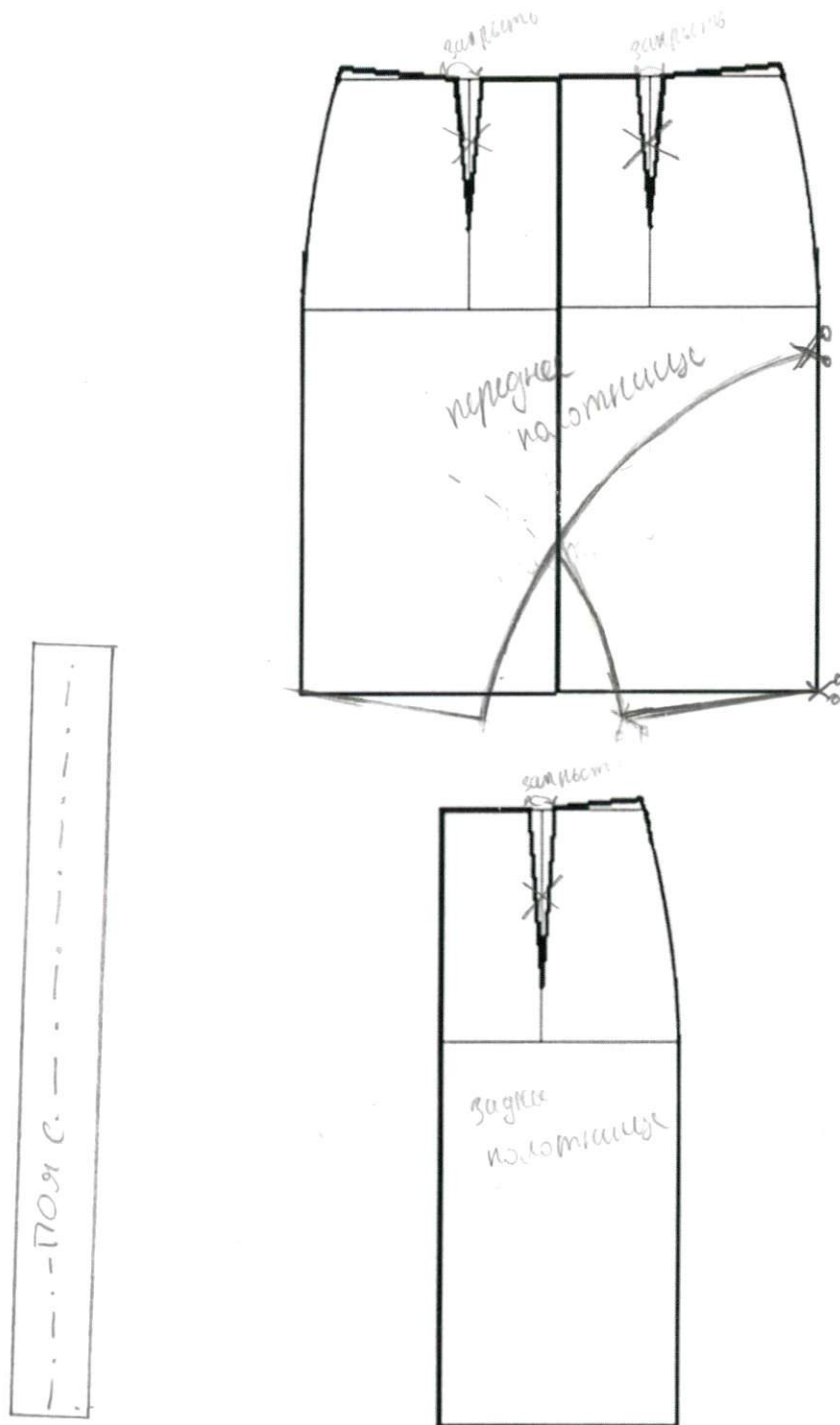
Треугольный разрез спереди чуть ниже колена добавляет модели оригинальности. Пояс притачной на широкой эластичной резинке обеспечивает комфорт.

Карта послеоперационного контроля

№	Критерии оценки	Баллы max	Баллы факт
Нанесение новых линий фасона			
1	Оформлена линия «запах» переднего полотнища	3	3
2	Оформлена линия низа переднего полотнища	3	3
3	Изменены вытачки на переднем полотнище	1	1
4	Изменена вытачка на заднем полотнище	1	1
5	Построен пояс	2	2
Подготовка выкроек юбки к раскрою и нанесение надписей на чертеже основы			
6	Указаны названия деталей	2	2
7	Указано количество деталей	2	1
8	Указано направление долевой нити, сгиба	2	1
9	Указана величина припусков на швы	2	2
10	Чистота выполнения задания	2	0
	Итого	20	18

100

Нанесение линий фасона



Результаты моделирования

